



İLKOKUL BÜLTENİMİZ

LİSE BÜLTENİMİZ

## HAFTALIK VELİ BÜLTENİ – 17 MART 2023

### İçindekiler

- 5-6. Sınıf Öğrencilerimizle Gölge Tiyatrosu Etkinliği..... 2
- Öğrencilerimizin Başarıları ..... 2
- Veli Görüşmeleri Hakkında Bilgilendirme ..... 3
- Dünya Su Günü ..... 3
- Haftanın Matematik Sorusu ..... 5
- Eğitimde İzlerimiz – Bireyler Ve Toplular Bölümümüzden ..... 6
- Eko Okul ..... 6



*\*Sevgili 8. Sınıf Öğrencilerimize bu hafta sonu yapılacak olan Özel Bilkent Lisesi' ne Giriş Sınavında,*

*\*Ortaokul Halkoyunları Ekibimize 28 Mart 2023 günü katılacakları Ankara Okulları arasında düzenlenen Halk Oyunları Yarışmasında Başarılar Diliyoruz.*

## 5-6. SINIF ÖĞRENCİLERİMİZLE GÖLGE TİYATROSU ETKİNLİĞİ



Okulumuzda bu hafta hem Çocuk ve Gençlik Tiyatroları hem de Dünya Kukla Günü kapsamında Karagöz Sanatçısı ve Altınköy Müzesi atölye yürütücüsü sayın Şafak Yılmaz'ı ağırladık.

5. ve 6. sınıf öğrencilerimizin katılımıyla gerçekleşen etkinlikte, söyleşi bölümünde gölge tiyatrosu geleneği konuşuldu. Usta sanatçımız Aşık Veysel türkülerini Aşık Veysel'in kukla oyunu eşliğinde öğrencilerle buluşturdu. Etkinliğin ikinci kısmında Hacivat Karagöz oyunu sahnelendi.

Değerli sanatçımız, etkinlik kapanışını Ulu önder Atatürk'ün Ankara'ya gelişinde önemli bir sembol olan seymenlerin kukla gösterisini sunarak tamamladı. Sanatçımıza, öğrencilerimize, etkinlik organizasyonunda emeği geçen yöneticilerimize ve öğretmenlerimize katkılarından dolayı teşekkür ederiz.



## ÖĞRENCİLERİMİZİN BAŞARILARI



7C Sınıfı öğrencilerimizden Anthony Can Aydın 10-12 Mart 2023 tarihleri arasında katıldığı, 13 Yaş ve Üzeri Ankara İl Baraj Gecme Müsabakası ve Anadolu Yıldızlar Ligi İl Seçmesi, 50m Sırtüstü, 800m Serbest yarışlarda aldığı dereceler ile ve 18-19 Mart 2023 tarihlerinde katıldığı 13 Yaş ve Üzeri, Kırıkkale 200m Kurbağalama yarışta aldığı derece ile Türkiye Şampiyonasına gitmeye hak kazanmıştır. Sevgili öğrencimizi tebrik ediyor, başarılarının devamını diliyoruz.

6D sınıfı öğrencilerimizden Alp Davutođlu 18-19 Mart 2023 tarihleri arasında katıldığı, T.C. Milli Eğitim Bakanlığı Okulararası Yelken Müsabakalarında 4. olmuştur. Sevgili öğrencimizi tebrik ediyor, başarılarının devamını diliyoruz.



### + VELİ GÖRÜŞMELERİ HAKKINDA BİLGİLENDİRME



Geçen dönemde olduğu gibi bu dönem Veli Toplantılarımız yine Zoom üzerinden **03-14 Nisan 2023** tarihleri arasında yapılacaktır. Tüm branşlarda öğretmenlerimiz uygun gün ve saatleri için sizlerle görüşme planlayacaklardır.

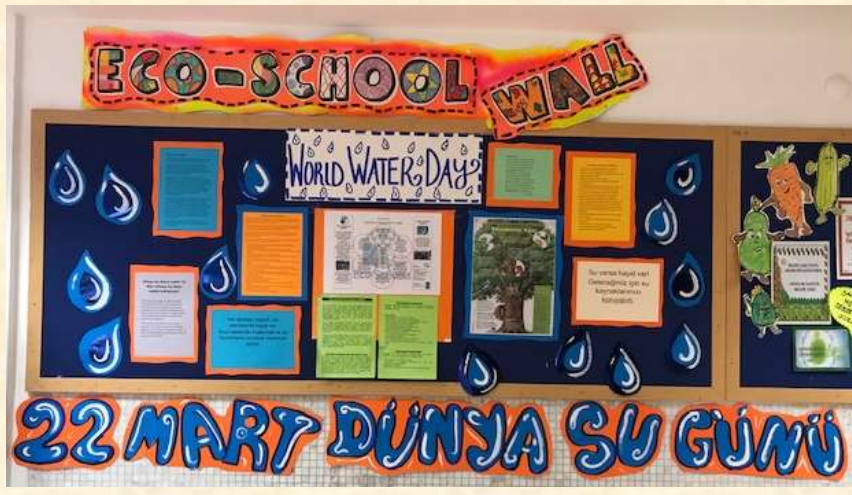
### + DÜNYA SU GÜNÜ



**BUGÜN, 22 MART**

**BUGÜN, DÜNYA SU GÜNÜ!**

**BUGÜN, YAŞAMIMIZIN KAYNAĞI OLAN SUYUN GÜNÜ!**



“22 Mart, 1993 yılında Birleşmiş Milletler Genel Kurulunda ilan edildiğinden bu yana Dünya Su Günü olarak kutlanmaktadır.

Teklif ilk kez, 1993’de Brezilya’nın Rio de Janeiro kentinde yapılan Birleşmiş Milletler Çevre ve Kalkınma Konferansı’nda gündeme getirildi. 1993’ten itibaren katılım her yıl katlanarak arttı. Halk, desteklerini göstermek amacıyla gün boyu muslukları açmamaya teşvik edildi.

Birleşmiş Milletler ve üye ülkeler bu günü, dünyadaki su kaynakları ile ilgili somut çalışmalarını ödüllendirmeye ve Birleşmiş Milletler’in tavsiyelerini uygulamaya ayırmışlardır.

Birleşmiş Milletlere üye ülkelerin dışında, içilebilir su kaynakları ve su yaşamını destekleyen bazı sivil toplum kuruluşları da Dünya Su Günü’nü, çağımızın öncelikli su sorunlarına dikkat çekmek için iyi bir fırsat olarak değerlendirmektedir.

Bizler de su kaynaklarımızı korumak ve geleceğimizi tehlikeye atmamak için elimizden geleni yapmalıyız.

Su hayattır, boşa akıtılmamalıdır. Onu korumak ve geleceğe bırakmak temel görevimiz olmalıdır. ”

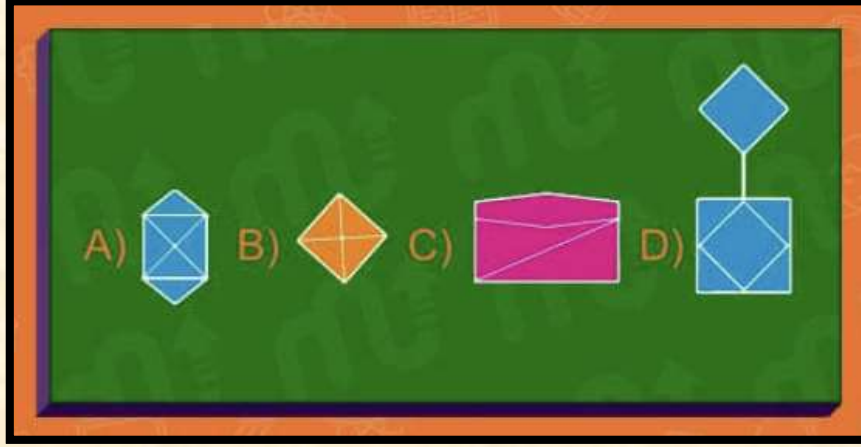
Bu anlamlı güne, 8B sınıfı öğrencilerimizden Sevgili Aybike Harmancı’nın anons sisteminden okuduğu bu yazı ile başladık. Bugün ve bundan sonraki her gün suyu korumak ve boşa harcamamak için elimizden geleni fazlasıyla yapacağımıza inanıyoruz.



## HAFTANIN MATEMATİK SORUSU




Sevgili Öğrenciler, cevaplarınızı **cuma** günü sonuna kadar **adınızı**, **soyadınızı** ve **sınıfınızı** yazarak **1. Katta** bulunan **cevap kutusuna** atabilirsiniz.



Yukarıdaki görsellerden biri hariç, hepsini elini kaldırmadan ve geçtiğin yerden bir daha geçmeden çizebilirsin. Peki, hangisini geçtiğin yerden bir daha geçmeden ve elini kaldırmadan çizmen imkansız?

### GEÇEN HAFTANIN SORUSU:

1 tavşan nehre doğru giderken 6 fil gördü. Her fil nehrden 2 maymun gördü. Her maymunun elinde ise 1 papağan vardır. Sonuç olarak kaç hayvan nehrin kenarındadır?



### CEVABI:

1 tavşan, 6 filin nehre gittiğini gördü.  
6 fil ise 2 maymunu nehre giderken gördü.  
Her maymunun elinde birer papağan var.  
Sonuç olarak 5 hayvan nehrin kenarındadır.  
Yanıldınız mı? Hadi biraz detaylı açıklayalım!

1 tavşan nehre doğru giderken, nehirden gelen 6 fil gördü. Şu an için nehre giden sadece tavşan.

Her fil iki maymun gördü. İşin hile yanı burada. Her fil ayrı ayrı iki maymun görmedi. Sadece ortada olan iki maymunu gördü. Yani 2 maymun nehre gidiyor. Her maymunun elinde de birer papağan olduğuna göre; 1 tavşan, 2 maymun ve 2 papağan = 5 hayvan nehrin kenarında olacaktır.

## + EĞİTİMDE İZLERİMİZ – BİREYLER VE TOPLUMLAR BÖLÜMÜMÜZDEN

MYP bültenimiz için lütfen [TIKLAYINIZ.](#)

### + EKO OKUL

Değerli Velilerimiz,

Bu hafta sizlerle hava kirliliği ve trafik sorununa karşı yaya, bisiklet ve elektrikli araçların nasıl etki ettiğine dair bir haberi paylaşmak istedik. Videodaki habere göre bu araçlar sayesinde hem hava hem de gürültü kirliliğinin önüne geçildiği belirtiliyor. Çevreyle dost uygulamaların artması tüm dünya için gerekli.

<https://www.youtube.com/watch?v=SoulsWBx5c4>



*Haftalık Bültenimizi takip ettiğiniz için teşekkür ederiz...*